

BREVET DE FIN D'ÉTUDES MOYENNES (B.F.E.M.)
SESSION NORMALE - PREMIER GROUPE D'ÉPREUVES
ÉPREUVES FACULTATIVES : ECONOMIE FAMILIALE – DESSIN - MUSIQUE
Durée : 1 heure - coefficient : 1
ÉPREUVE AU CHOIX DU CANDIDAT (choix fait à l'inscription du candidat)

ÉPREUVE N° I : ECONOMIE FAMILIALE (20 points)

EXERCICE 1 : 5 points

Consigne : Relève la réponse correcte sur la copie

- 1) Etape de l'accouchement marquée par la dilatation et l'effacement du col
 - Allaitement
 - Délivrance
 - Travail
- 2) Etape d'un projet qui a pour objectif entre autres de faire la remédiation
 - L'évaluation
 - L'étude de faisabilité
 - La rédaction du document de projet
- 3) Un document qui lie un assureur et un assuré
 - Permis de conduire
 - Prime d'assurance
 - Police d'assurance
- 4) Moyen de diagnostic de la grossesse basé sur la recherche de l'Hormone Gonadotrophine Chorionique (HGC)
 - Echographie
 - Test de grossesse
 - Analyse salivaire
- 5) Somme remise à la future mariée pour concrétiser le mariage
 - Dot
 - Epargne
 - Premier cadeau

EXERCICE 2 : 15 points

Contexte :

Des consultations prénatales (CPN) régulières associées à une bonne hygiène prénatale permettent un bon déroulement de la grossesse et de l'accouchement :

Consigne : Après lecture du contexte, répond aux questions suivantes

1. Définis les contenus clés soulignés **2 pts**
2. Rappelle deux objectifs des CPN **2 pts**

3. Donne le nom de **deux maladies** recherchées lors des CPN (**1 pt**). Pour chaque maladie, donne le **nom complet de l'analyse** qui permet de la mettre en évidence (la dépister) **2 pts**
4. Propose **deux nutriments** indispensables à la femme enceinte (**1 pt**). Pour chaque nutriment proposé, donne **le rôle** chez la mère et /ou chez le fœtus. **2 pts**
5. Explique la notion d'interdit alimentaire, et donne **deux exemples** **2 pts**
6. Propose deux ports vestimentaires qui ne sont pas recommandés à la femme enceinte ; **justifie ta réponse. 2 pts**
7. Donne le nom de l'hormone sécrétée en fin de grossesse et qui déclenche l'accouchement. **1 pt**

FIN DE L'ÉPREUVE D'ÉCONOMIE FAMILIALE

ÉPREUVE N° II : ÉDUCATION ARTISTIQUE PLASTIQUE OU DESSIN (20 points).

SUJET : Dans le cadre de la conservation du milieu aquatique (rivière, fleuve, mer...), représentez une variété (de tailles et de couleurs différentes) de poissons dans leur milieu naturel (roches, algues, débris divers....).

Technique (s) : libre (s).

FIN DE L'ÉPREUVE D'ÉDUCATION ARTISTIQUE PLASTIQUE OU DESSIN

ÉPREUVE N° III : ÉDUCATION MUSICALE (20 points)

(Chaque exercice est noté sur 5 points)

Exercice 1 :

Qu'appelle-t-on tétracorde ? Donnez un exemple.

Exercice 2 :

Donnez la valeur de la ronde pointée.






Exercice 3 :

Donnez la bonne réponse. La mesure $\frac{4}{4}$ indique une mesure à :

- a) 4 temps dont l'unité de temps est la ronde.
- b) 4 temps dont l'unité de temps est la blanche.
- c) 4 temps dont l'unité de temps est la noire.

Exercice 4 :

Compléter le tableau ci-dessous en établissant la correspondance

Figures de notes					
Figures de silences					

FIN DE L'ÉPREUVE D'ÉDUCATION MUSICALE